



SOY ISIM : ISIM :

1 Hesapla.

$$\begin{array}{r} 297 \\ \times 35 \\ \hline \end{array}$$

$$\begin{array}{r} 5,26 \\ \times 43 \\ \hline \end{array}$$

A CA+ CA- NA R

2 soruya bak ve cevapla : $408 \div 3$

3 soruya bak ve cevapla : $164,8 + 26,57$

A CA+ CA- NA R

4 Bos olan yerlere eş degerlerini yaz.

4 yıl = ay eder
 1 kg = gram eder
 1 saat = dakika eder
 1 km = metre eder

30 metre = ... santimetre eder
 120 dakika = saat eder
 1 dakika = saniye eder
 1 metre = ... santimetre eder
 1 litre = ... centilitre eder

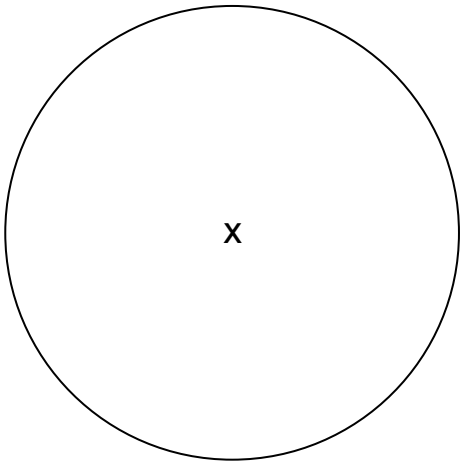
A CA+ CA- NA R

5 A'nın merkezinden B'den geçen bir daire çiz.



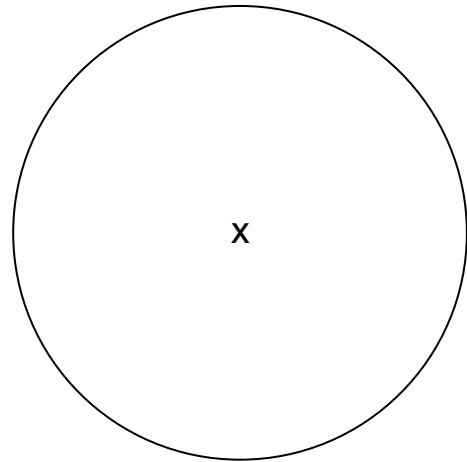
A	CA+	CA-	NA	R
---	-----	-----	----	---

6 Bu dairenin bir yarıçapını çiz.



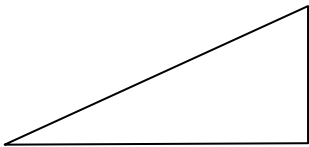
A	CA+	CA-	NA	R
---	-----	-----	----	---

7 Bu daireden bir çap çiz.

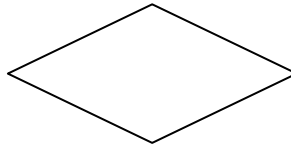


A	CA+	CA-	NA	R
---	-----	-----	----	---

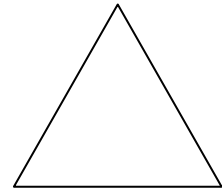
8 Her şeklin ismini işaretle.



- ▶ ikiz kenar üçgen
- ▶ dik üçgen
- ▶ Eşkenar dörtgen
- ▶ Eşkenar üçgen



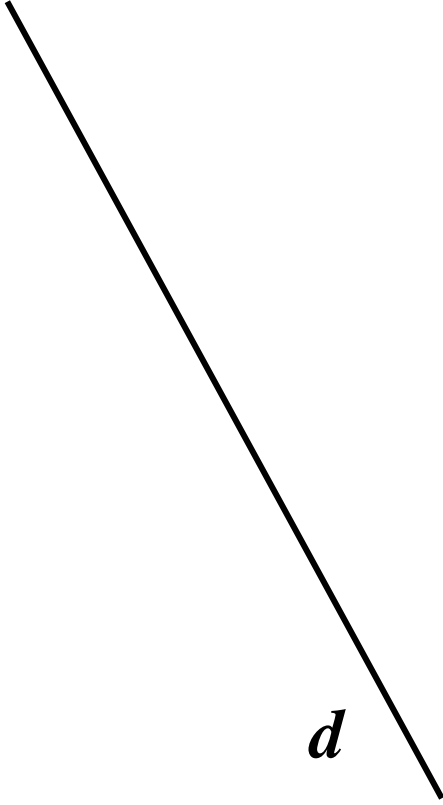
- ▶ Üçgen
- ▶ dikdörtgen
- ▶ küp
- ▶ Eşkenar dörtgen



- ▶ Eşkenar üçgen
- ▶ paralelkenar
- ▶ dik üçgen
- ▶ Eşkenar dörtgen


A	CA+	CA-	NA	R
---	-----	-----	----	---

9 d 'ye göre bir paralel düz çizgi çiz.



A	CA+	CA-	NA	R
---	-----	-----	----	---

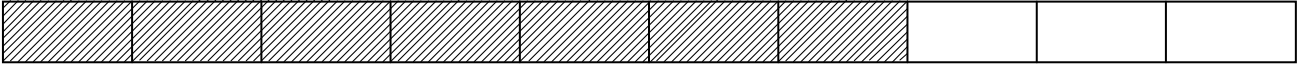
10 d 'ye göre dikey bir çizgi çiz.



A	CA+	CA-	NA	R
---	-----	-----	----	---


11 Örneğe bak :

örnek :



Şeritlerin $\frac{7}{10}$ gri renge boya.

a) örnekte gösterildiği gibi kesir kullanarak cümleyi tamamla :



Şeritlerin gri renge boya.

b) Şeritlerin $\frac{3}{4}$ gri renge boya.



c) Şeritlerin $\frac{1}{3}$ gri renge boya.



A CA+ CA- NA R

12 5,4 eşit düşen kesiri işaretle :

$$\frac{54}{100} \quad \frac{9}{10} \quad \frac{54}{10} \quad \frac{4}{5} \quad \frac{5}{4}$$

A CA+ CA- NA R

13 $\frac{23}{10}$ a eşit düşen sayıyı işaretle :

$$230 \quad 0,23 \quad 2,3 \quad 23 \quad 3,2$$

A CA+ CA- NA R

14 Küçükten büyüğe doğru sıraya koy sayıları :

3,04

3,40

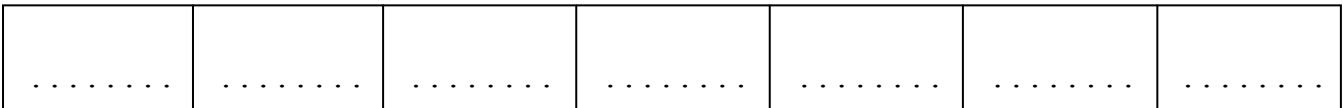
0,34

3,24

30,4

304,04

34,04



A CA+ CA- NA R

15 Soruyu oku ve dogru cevabi bul.

a) Paul 43 şeker satın alıyor, Anne'nın 65 şeker var.

Anne'nın Paul'den kaç tane daha fazla şeker var ?

Cevap :

b) Bir müsabaka için, sporcular üç aşamalı bir yarışmayı geçmeliler : Bunlar bisiklet, yüzme, koşu.

84 kilometreyi bisikletle, 5 kilometreyi yürüyerek yapıyorlar. Bütün bu üç aşama sonunda toplam 109 kilometre yol kat ediyorlar.

Koşu için ne kadar yol kat etmiş olurlar ?

Cevap :

A CA+ CA- NA R

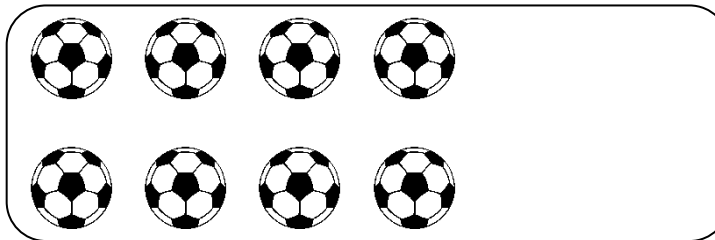
16 Tamamla.



↔ 12 €



↔ €



↔ €



↔ 18 €

A CA+ CA- NA R